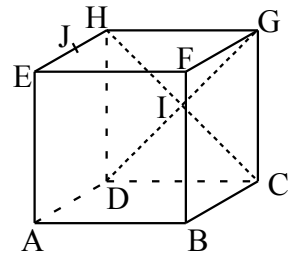


Exercice 1

ABCDEFGH est un cube de côté a . Le point I est le centre de la face DCGH et J est le milieu du segment [EH].

1. Exprimer les vecteurs \vec{AI} et \vec{BJ} en fonction des vecteurs \vec{AB} , \vec{AD} et \vec{AE} .
2. Calculer le produit scalaire $\vec{AI} \cdot \vec{BJ}$.
3. Que peut-on en déduire ?

**Exercice 2**

On considère dans un repère orthonormé de l'espace les points A (4 ; 2 ; -3), B (6 ; 4 ; 0), C (7 ; 6 ; -2) et D (5 ; 4 ; -5).

1. Démontrer que le quadrilatère ABCD est un parallélogramme.
2. Calculer le produit scalaire $\vec{AB} \cdot \vec{AD}$.
3. Que peut-on en déduire pour le parallélogramme ABCD ?

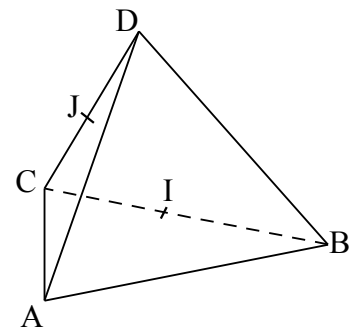
Exercice 3

ABCD est un parallélogramme tel que $AC = 10$ et $BD = 4$. Calculer $\vec{DA} \cdot \vec{DC}$.

Exercice 4

ABCD est un tétraèdre régulier d'arête égale à 6. Les points I et J sont les milieux respectifs des arêtes [BC] et [CD].

1. Calculer $\vec{AB} \cdot \vec{AC}$.
2. Calculer $\vec{AI} \cdot \vec{AJ}$.
3. En déduire l'arrondi au dixième de degré de la mesure de l'angle \widehat{IAJ} .

**Exercice 5**

A et B sont deux points de l'espace tels que $AB = 2$. Le point I est le milieu du segment [AB].

1. Démontrer que pour tout point M de l'espace : $\vec{MA} \cdot \vec{MB} = MI^2 - 1$.
2. En déduire la nature de l'ensemble des points M de l'espace tels que $\vec{MA} \cdot \vec{MB} = 2$.
3. Quel est l'ensemble des points de l'espace tels que $\vec{MA} \cdot \vec{MB} = -2$?

Exercice 6

Soit \mathcal{P} le plan passant par le point A (4 ; 8 ; -4) et de vecteurs directeurs $\vec{u} \begin{pmatrix} 2 \\ -1 \\ 3 \end{pmatrix}$ et $\vec{v} \begin{pmatrix} 4 \\ 1 \\ -3 \end{pmatrix}$.

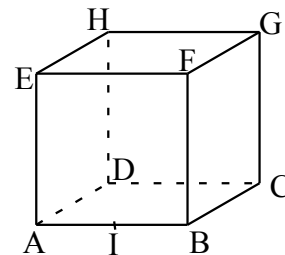
1. Démontrer que le vecteur $\vec{n} \begin{pmatrix} 0 \\ 3 \\ 1 \end{pmatrix}$ est un vecteur normal au plan \mathcal{P} .
2. Les vecteurs \vec{u} , \vec{v} et \vec{n} forment-ils une base orthogonale de l'espace ?
3. Déterminer \vec{w} tel que (\vec{u}, \vec{w}) soit une base orthogonale du plan \mathcal{P} . En déduire une base orthonormée de l'espace.
4. Déterminer un vecteur normal \vec{n}_1 au plan \mathcal{P} tel que la troisième coordonnée de \vec{n}_1 soit égale à 7.
5. Déterminer un vecteur normal \vec{n}_2 au plan \mathcal{P} tel que la deuxième coordonnée de \vec{n}_2 soit égale à -1.
6. Est-il possible de trouver un vecteur normal au plan \mathcal{P} dont la première coordonnée est égale à 4 ?
7. Quelle est la distance entre le point M (2 ; -3 ; 5) et le plan \mathcal{P} .

Exercice 7

On considère, dans un repère orthonormé de l'espace, les points A (7 ; -1 ; 8), B (10 ; 3 ; 6), C(1 ; -2 ; 6) et D (-5 ; 2 ; 4). Les droites (AB) et (CD) sont-elles orthogonales ?

Exercice 8

ABCDEFGH est un cube.



- Rechercher parmi les sommets du cube quatre points équidistants de A et F.
 - Justifier que ces quatre points sont dans un même plan.
- Soit I le milieu du segment [AB]
 - Démontrer que pour tout point M de l'espace, $MA^2 = MB^2$ si, et seulement si, $\vec{IM} \cdot \vec{AB} = 0$.
 - En déduire que l'ensemble des points équidistants des extrémités d'un segment est un plan dont on précisera les éléments caractéristiques.
Ce plan est appelé le plan médiateur du segment [AB].
- Dans le cube, donner le plan médiateur du segment [AF].

Exercice 9

On considère le cube ABCDEFGH de côté 1 représenté ci-contre. On se place dans le repère orthonormé $(A; \vec{AB}, \vec{AD}, \vec{AE})$.

On désigne par I, J et K les milieux respectifs de [BC], [BF] et [FH].

- Lire les coordonnées des points I, J, G et K.

- Démontrer que le vecteur $\vec{n} \begin{pmatrix} 2 \\ 1 \\ 1 \end{pmatrix}$ est un vecteur normal au plan (IJK).

- Démontrer que la distance du point G au plan (IJK) est égale à $\frac{\sqrt{6}}{4}$.

- On considère le point $L \left(\frac{1}{2}, \frac{3}{4}, \frac{3}{4} \right)$.

- Démontrer que $\vec{IL} = -\frac{1}{2} \vec{IJ} + \vec{IK}$. Que peut-on en déduire pour le point L ?

- Démontrer que le point L est le projeté orthogonal du point G sur le plan (IJK).

